


► [6<sup>e</sup>-G2] Ex : Je réfléchis à la répartition de la population en Europe

 doc 4 p 199

1/ En quelle couleur sont représentées les régions qui ont plus de 200 hab/km<sup>2</sup> ?

---


2/ Les régions les plus densément peuplées se situent :

- plutôt au nord de l'Europe
- plutôt à l'est de l'Europe
- plutôt au centre de l'Europe

3/ Les régions les moins peuplées se situent :

- plutôt au nord et à l'est de l'Europe
- plutôt au sud de l'Europe
- plutôt au centre de l'Europe

- Pour expliquer les régions peu peuplées

 doc 5 p 199

4/ Repère les Alpes et les Carpates. Puis regarde sur le doc 4 : est-ce que ce sont des espaces densément peuplés ou des espaces peu peuplés ? \_\_\_\_\_

---

5/ Les petites bulles apportent des informations sur le climat. Note les 3 villes où il fait le plus froid en hiver : \_\_\_\_\_

Sont-elles situées dans des régions peu peuplées ou très peuplées ? \_\_\_\_\_

---

6/ Pour conclure, explique pourquoi certaines régions d'Europe sont peu peuplées.

---

---

---


---

- Pour expliquer les régions densément peuplées

**Document** : La révolution industrielle et le peuplement de l'Europe

« Avant la révolution industrielle, l'Europe était moins peuplée que les foyers asiatiques : 146 millions d'Européens en 1800, contre 330 millions de Chinois et 180 millions d'Indiens. La forte croissance de l'industrie et des villes entre 1800 et 1950, une forte baisse de la mortalité pendant la même période, ont eu un effet décisif : la population de l'Europe a été multiplié par 3,5 entre 1750 et 1950, contre 2,5 pour la Chine et l'Inde pendant la même période. »

G. Baudelle, *Géographie du peuplement*, Armand Colin, Paris, 2005.

 Pour bien comprendre le texte, repère les informations suivantes :

Entoure **en bleu** la population qui forme le plus grand foyer de peuplement en 1800.

Entoure **en rouge**, le continent qui a connu la plus forte croissance de sa population entre 1750 et 1950.

Entoure **en vert** les 2 raisons pour lesquelles la population de ce continent a augmenté.

7/ A l'aide du texte, explique pourquoi certaines régions d'Europe sont très peuplées.

---

---

---

---